





## Begiratu erlojuari: zer ordu da? Hautatu hiru aukeretatik zuzena kasu bakoitzean.



Zortziak puntuan dira

Bostak laurden gutxi

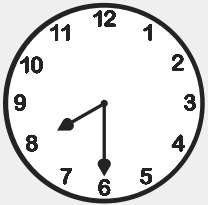
Bederatziak puntuan



Bostak hamar gutxi

Ordu bata puntuan


Seiak eta hogeita bost



Zortzi eta erdiak

Zazpiak bost gutxi


Hiru eta erdiak



Zortziak eta bost

Zazpiak laurden gutxi

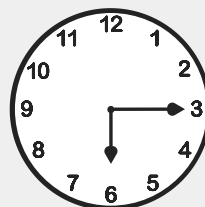
Seiak puntuan



Hamaikak hamar gutxi

Bederatziak puntuan


Hamabiak eta bost



Bederatziak hogeit gutxi

Hamarrak puntuan

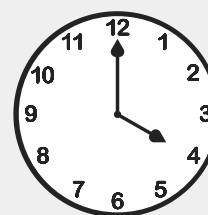
Hiru eta erdiak



Zortziak laurden gutxi

Ordu bata eta hogeit.


Ordu biak bost gutxi.



Hamaika eta erdiak

Laurak puntuan


Hamabiak laurden gutxi



Hirurak eta laurden

Hirurak puntuan

Laurak eta erdiak



Hirurak hogeit gutxi

Laurak eta hamar

Hamabiak puntuan



Lotu erloju bakoitzaren zenbakia idatzitako ordu zuzenarekin, 1. adibidean ikusten den bezala.

1



Bederatziak eta laurden dira.



Hamabi eta erdiak dira.



Hamar eta erdiak dira.



Zazpiak eta laurden dira.



Hamabiak puntuan dira.



Laurak laurden gutxi dira.



Hirurak laurden gutxi dira.



Bederatziak puntuan dira.



Hamaikak eta laurden dira.



Zortziak puntuan dira.

6



7



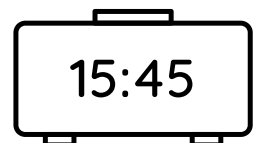
8



9



10



NOA



13:45

16:15

LARUNBATA



• \_\_\_\_\_

• \_\_\_\_\_

• \_\_\_\_\_

RAUL



10:45



22:30

IGANDEA



• \_\_\_\_\_

• \_\_\_\_\_

• \_\_\_\_\_

PAULA



09:45

14:15



OSTIRALA



• \_\_\_\_\_

• \_\_\_\_\_

• \_\_\_\_\_