





Observa el reloj ¿qué hora es? selecciona de las tres opciones la correcta en cada caso.



Son las ocho en punto.

Las cinco menos cuarto

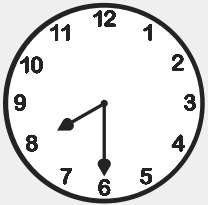
Las nueve en punto



Las cinco menos diez

La una en punto


Las seis y veinticinco



Las ocho y media

Las siete menos cinco


Las tres y media



Las ocho y cinco

Las siete menos cuarto

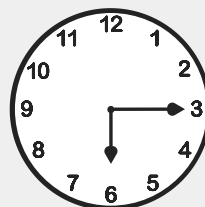
Las seis en punto



Las once menos diez

Las nueve en punto


Las doce y cinco



Las nueve menos veinte

Las diez en punto

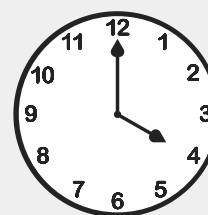
Las tres y media



Las ocho menos cuarto

La una y veinte


Las dos menos cinco



Las once y media

Las cuatro en punto


Las doce menos cuarto



Las tres y cuarto

Las tres en punto

Las cuatro y media



Las tres menos veinte

Las cuatro y diez

Las doce en punto



Relaciona el número de cada reloj con la hora correcta escrita como se ve en el ejemplo 1.

1



Son las nueve y cuarto.



Son las doce y media.



Son las diez y media.



Son las siete y cuarto.



Son las doce en punto.



Son las cuatro menos cuarto.



Son las tres menos cuarto.



Son las nueve en punto.



Son las once y cuarto.



Son las ocho en punto.

6



7



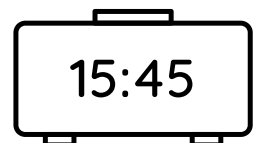
8



9



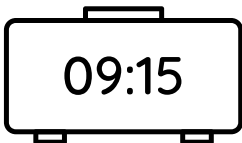
10



3



4



5



Observa las rutinas y escribe tres oraciones, una para cada actividad.

NOA



13:45

16:15

SÁBADO



• _____

• _____

• _____

RAUL



10:45



22:30

DOMINGO



• _____

• _____

• _____

PAULA



09:45

14:15



VIERNES



• _____

• _____

• _____